








Pracovný list

Piráť chce získať poklad, ktorého strážia tigre. Tiger zbadá piráta, ak stúpi na niektoré políčko susediace s jeho políčkom:

X	X	X
X		X
X	X	X

Akou cestou má ísť piráť z jeho terajšej pozície, aby ho nevidel žiadny tiger.

Použi skratky: D - dole, H - hore, P - vpravo, L - vľavo. Napr.- D2, P, H1, L, D3. Čísla znamenajú počet políčok.

Riešenie: _____

Aká bola táto aktivita? Zakrúžkuj niektorú z uvedených možností:



zaujímavá



normálna



nudná



ťažká



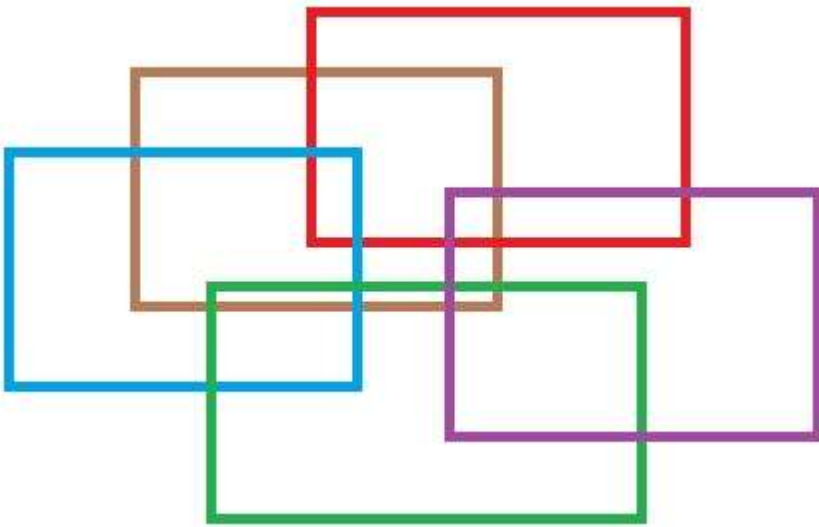
priemerná



ľahká

Pracovný list

V akom poradí sú nakreslené obdĺžniky?



Riešenie: _____

Aká bola táto aktivita? Zakrúžkuj niektorú z uvedených možností:



zaujímavá



normálna



nudná



ťažká



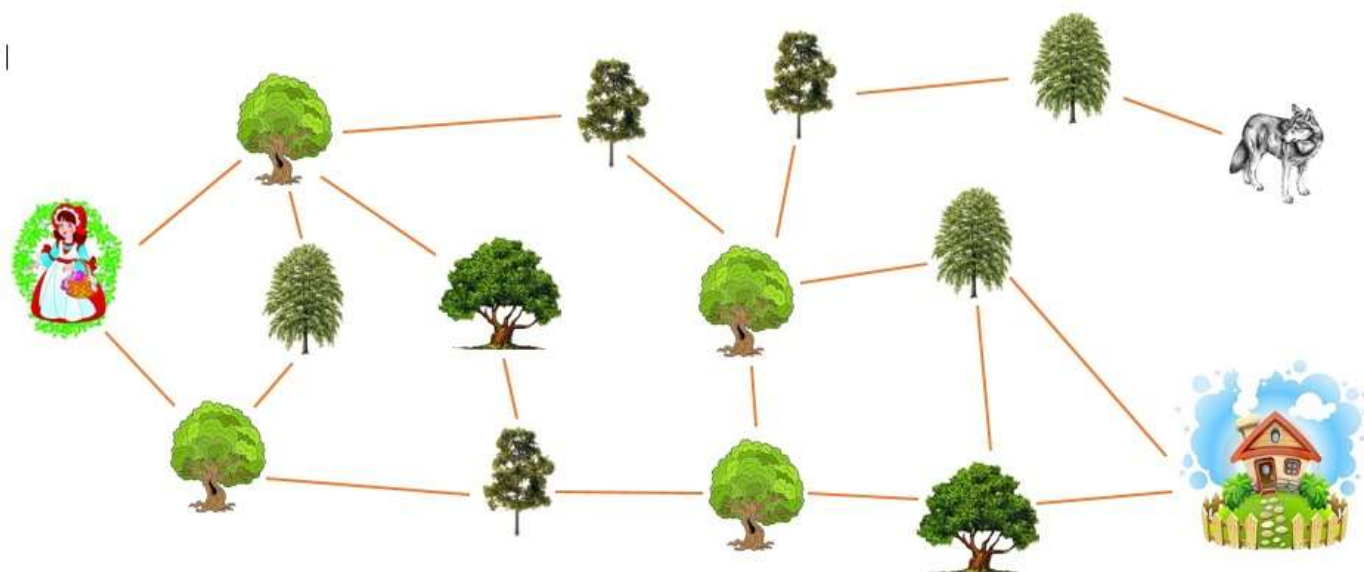
priemerná



ľahká

Pracovný list

Červená čiapočka chcela navštíviť starú mamu. Prechádzala okolo rôznych stromov, až prišla k starej mame. Okolo ktorých stromov postupne prechádzala?



- A:      
- B:      
- C:      
- D:      

Aká bola táto aktivita? Zakrúžkuj niektorú z uvedených možností:



zaujímavá



normálna



nudná



ťažká



priemerná



ľahká

Pracovný list

Pán X každý deň chodil po tej istej trase. Ak išiel takto: 2 kroky dopredu (predstav si že stojíš na jeho mieste), otočil sa doľava (po svojej ľavej ruke), 6 krokov dopredu, otočil sa doprava, 3 kroky dopredu, otočil sa doprava, 3 kroky dopredu, otočil sa doľava, 3 kroky dopredu, otočil sa doprava, 4 kroky dopredu. Kam sa dostal?



A: banka B: kostol C: park D: hotel

Aká bola táto aktivita? Zakrúžkuj niektorú z uvedených možností:



zaujímavá



normálna



nudná



ťažká



priemerná



ľahká

Pracovný list

V akváriu sú ryby, ktoré keď preplávajú cez rastlinu, vyjdú z nej tak, že druhá a tretia ryba vyjdú v opačnom poradí, než ako vošli. Ak preplávajú cez akvariijnú dekoráciu, vyjdú z nej tak, že prvá a posledná ryba sa vymenia. Teda takto:



Aké bude poradie rýb ak preplávajú najprv cez rastlinu, potom cez dekoráciu a zase cez rastlinu? Nakresli ako vyjdú v tomto prípade:



Riešenie: _____

Aká bola táto aktivita? Zakrúžkuj niektorú z uvedených možností:



zaujímavá



normálna



nudná



ťažká



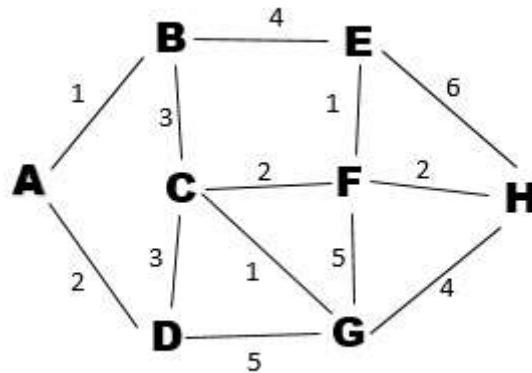
priemerná



ľahká

Pracovný list

Na obrázku je plán mesta. Pán Smith je donášač pizze, ktorý musí z adresy A do adresy H čo najskôr doručiť pizzu. Akými ulicami musí pán Smith prechádzať, aby sa čo najskôr dostal na adresu H. Čísla medzi adresami znamenajú za koľko minút sa dokáže dostať donášač z jednej adresy do druhej. Zapište do políčka jeho úplnú trasu (od A po H), nepoužívajte medzeru, ani čiaru.



Riešenie: _____

Aká bola táto aktivita? Zakrúžkuj niektorú z uvedených možností:



zaujímavá



normálna



nudná



ťažká



priemerná



ľahká